

14.3. Massa

① Om densitet ρ är en konstantfunktion så är

a) För en tråd ρ gäller massa = $\rho \cdot$ längd.

b) För en platta (planskiva) gäller massa = $\rho \cdot$ area

c) För en kropp gäller massa = $\rho \cdot$ volym

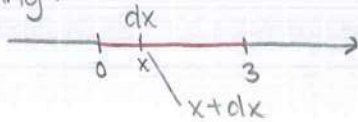
② Om densitetsfunktion är kontinuerlig funktion så kan vi betrakta densitet som en konstant runt varje punkt.

Ex. En tråd som är 3 meter lång ligger på tallinjen mellan 0 och 3



Densiteten är $\rho(x) = 2x + 1$ där $0 \leq x \leq 3$
Beräkna massan av tråden.

Lösning:

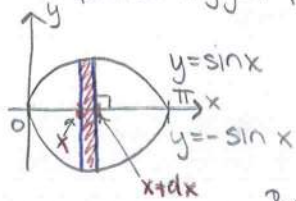


Trådbiten vid punkten x har massan $dm = \rho(x) \cdot dx$

Total massan av tråden är $\int_{\text{hela tråden}} dm = \int_0^3 \rho(x) dx$ $\leftarrow dx$ är längden.

$$= \int_0^3 (2x + 1) dx = [x^2 + x]_0^3 = 12$$

Ex. En platta ligger på platsen Densitet $\rho = \rho(x) = x$



Bestäm massan.

densitet beror endast på x-koordinaten.

Lösning:

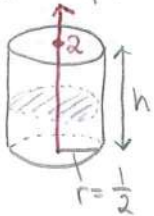
* Bandet har nästan en konstant densitet $\rho(x)$

Bandets massa är $dm = \underbrace{\rho(x)}_{\text{densitet}} \cdot \underbrace{(\sin x - (-\sin x)) dx}_{\text{area}}$

Plattans massa $\int_0^{\pi} dm = \int_0^{\pi} 2\rho(x) \cdot \sin x dx = 2 \int_0^{\pi} x \cdot \sin x dx$ [Partiell integration]

\Rightarrow totala massan = 2π

Ex. 14.7* En cylinder kropp har densiteten $\rho = \rho(h) = 500 - 100h$



Bestäm massan

Den har alltså massan $dm = \rho \cdot dV$

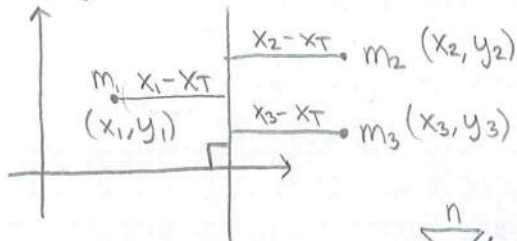
$$= (500 - 100h) \cdot \pi \left(\frac{1}{2}\right)^2 dh$$



har volymen $dV = \pi \left(\frac{1}{2}\right)^2 dh$

$$\begin{aligned} \text{Totalmassan} &= \int_0^2 dm = \int_0^2 (500 - 100h) \frac{\pi}{4} dh = \frac{100}{4} \pi \int_0^2 (5 - h) dh \\ &= 25\pi \left[5h - \frac{h^2}{2} \right]_0^2 \dots \text{ osv} \end{aligned}$$

Tyngdpunkt (Masscentrum)



① Total moment av partiklarna med avseende på linjen $x = x_T$ ska vara 0.

$$\sum_{j=1}^3 (x_j - x_T) m_j = 0$$

dvs. $\sum_{j=1}^n (x_j m_j - x_T m_j) = 0$

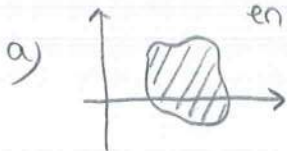
Vi får $x_T = \frac{\sum_{j=1}^3 x_j m_j}{\sum_{j=1}^3 m_j}$

$$\sum_{j=1}^3 x_j m_j - \sum_{j=1}^3 x_T m_j = 0$$

På samma sätt får vi

$$y_T = \frac{\sum_{j=1}^3 y_j m_j}{\sum_{j=1}^3 m_j}$$

Allmänt har vi följande en platta k



Masscentrumet av plattan k uppfyller

$$x_T = \frac{\int_k x dm}{\int_k dm} \quad y_T = \frac{\int_k y dm}{\int_k dm}$$



Masscentrum (x_T, y_T, z_T) för kroppen k uppfyller

1. Har vi redan, se början av föreläsning

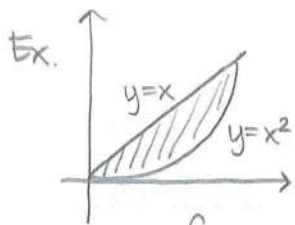
2. $z_T = \frac{\int_k z dm}{\int_k dm}$

Ex.

densitet = $p(x) = 2x+1$ där $0 \leq x \leq 3$

Masscentrum x_T av träden

$$\begin{aligned} x_T &= \frac{\int_k x dm}{\int_k dm} = \frac{\int_0^3 x p(x) dx}{\int_0^3 p(x) dx} = \frac{\int_0^3 x(2x+1) dx}{\int_0^3 (2x+1) dx} \\ &= \frac{\left[\frac{2x^3}{3} + \frac{x^2}{2} \right]_0^3}{\left[x^2 + x \right]_0^3} = \frac{\frac{2}{3} \cdot 3^3 + \frac{3^2}{2}}{3^2 + 3} = \frac{9 + \frac{9}{2}}{12} \\ &= \frac{18+9}{2} \cdot \frac{1}{12} = \frac{27}{24} = \frac{3 \cdot 9}{3 \cdot 8} = \frac{9}{8} \end{aligned}$$

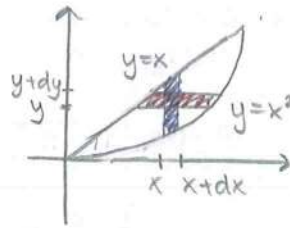


Plattan är gjord av ett homogent material
dvs. densiteten $\rho = \rho_0 \leftarrow$ konstant

Bestäm masscentrum (x_T, y_T)

Lösning:

$$* x_T = \frac{\int_k x dm}{\int_k dm}$$



$$dm = \rho_0 \cdot \text{längd} \cdot dx = \rho_0 (x - x^2) dx$$

$$= \frac{\int_0^1 x \rho_0 (x - x^2) dx}{\int_0^1 \rho_0 (x - x^2) dx}$$

$$= \frac{\left[\frac{x^3}{3} - \frac{x^4}{4} \right]_0^1}{\left[\frac{x^2}{2} - \frac{x^3}{3} \right]_0^1} = \frac{1}{2}$$

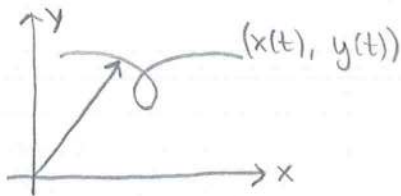
$$* y_T = \frac{\int_k y dm}{\int_k dm} = \frac{\int_0^1 y \rho_0 (\sqrt{y} - y) dy}{\int_0^1 \rho_0 (\sqrt{y} - y) dy} = \text{Beräkna integraler}$$

Föreläsning 2015-11-26

14.1 Kurvlängd och rotationsarea

En rektorvärd funktion

$\vec{r}(t) = (x(t), y(t))$, där $\alpha \leq t \leq \beta$ kallas en parametrisk kurva med paraten t .



OBS! Kurvan $\vec{r}(t) = (x(t), y(t))$ där $\alpha \leq t \leq \beta$ även kan uttryckas som

$$\begin{cases} x = x(t) \\ y = y(t) \end{cases} \text{ där } \alpha \leq t \leq \beta$$

Ex. $\vec{r}(t) = (a \cdot \cos t, b \cdot \sin t)$

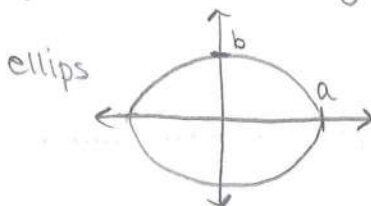
där $0 \leq t \leq 2\pi$ Grafen av kurvan?

Lösning: Sätt $\begin{cases} x = a \cdot \cos t \\ y = b \cdot \sin t \end{cases}$

$$0 \leq t \leq 2\pi$$

$$\frac{x}{a} = \cos t \quad \text{och} \quad \frac{y}{b} = \sin t$$

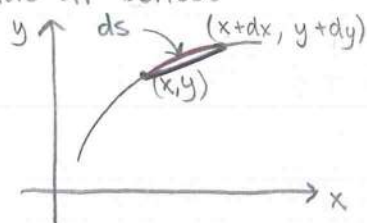
$$\Rightarrow \left(\frac{x}{a}\right)^2 + \left(\frac{y}{b}\right)^2 = \overbrace{\cos^2 t + \sin^2 t}^1$$



Sats längden av kurvan $\begin{cases} x = x(t) \\ y = y(t) \end{cases} \quad \alpha \leq t \leq \beta$

är $\int_{\alpha}^{\beta} \sqrt{x'(t)^2 + y'(t)^2} dt$

Ide av beviset



$\begin{cases} x = x(t) \\ y = y(t) \end{cases} \quad \alpha \leq t \leq \beta$

längden av sträckan är $\sqrt{(dx)^2 + (dy)^2}$

Men $\begin{cases} x = x(t) \\ y = y(t) \end{cases} \Rightarrow \begin{cases} dx = x'(t) dt \\ dy = y'(t) dt \end{cases}$

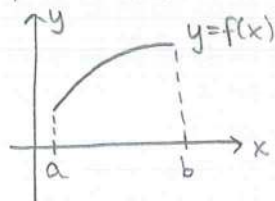
$ds = \sqrt{(dx)^2 + (dy)^2} = \sqrt{(x'(t))^2 + (y'(t))^2} dt$

kurvas längd är

$\int_{\alpha}^{\beta} ds = \int_{\alpha}^{\beta} \sqrt{(x'(t))^2 + (y'(t))^2} dt$

Sats: Längden av funktionskurvan $y=f(x)$, där $a \leq x \leq b$ är

$\int_a^b \sqrt{1 + (f'(x))^2} dx$



Bevis. Skriv $x=t$ så är $y=f(t)$ Funktionskurva kan uttryckas som

$\begin{cases} x = t \\ y = f(t) \end{cases} \quad a \leq t \leq b$ som enligt satsen ovan, har längden

$\int_a^b \sqrt{(t')^2 + (f'(t))^2} dt = \int_a^b \sqrt{1 + (f'(t))^2} dt \quad \#$

Ex. 14.12 längden till kurvan $y=x^{\frac{3}{2}}$, $0 \leq x \leq \frac{4}{3}$

är $\int_0^{\frac{4}{3}} \sqrt{1 + ((x^{\frac{3}{2}})')^2} dx = \int_0^{\frac{4}{3}} \sqrt{1 + (\frac{3}{2}x^{\frac{1}{2}})^2} dx = \int_0^{\frac{4}{3}} \sqrt{1 + \frac{9}{4}x} dx$
 $= \left[\frac{(1 + \frac{9}{4}x)^{\frac{3}{2}}}{\frac{3}{2}} \cdot \frac{1}{\frac{9}{4}} \right]_0^{\frac{4}{3}} = \dots = \frac{56}{27}$

Ex. Längden av kurvan $y = \frac{e^x + e^{-x}}{2}$ $0 \leq x \leq 1$

är $\int_0^1 \sqrt{1 + (y')^2} dx = \int_0^1 \sqrt{1 + \left(\frac{e^x - e^{-x}}{2}\right)^2} dx = \int_0^1 \sqrt{1 + \frac{1}{4}((e^x)^2 - 2e^x e^{-x} + (e^{-x})^2)} dx$
 $= \int_0^1 \sqrt{\frac{1}{4}((e^x)^2 + 2e^x e^{-x} + (e^{-x})^2)} dx = \int_0^1 \sqrt{\frac{1}{4}(e^x + e^{-x})^2} dx = \frac{1}{2} \int_0^1 (e^x + e^{-x}) dx = \frac{e - e^{-1}}{2}$

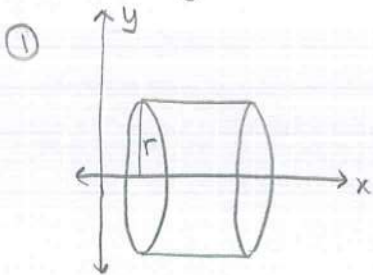
Ex. Kurvan $\begin{cases} x = \cos^3 t \\ y = \sin^3 t \end{cases} \quad 0 \leq t \leq \frac{\pi}{2}$

har längden $\int_0^{\frac{\pi}{2}} \sqrt{(\cos^3 t)'^2 + (\sin^3 t)'^2} dt = \int_0^{\frac{\pi}{2}} \sqrt{(3\cos^2 t (-\sin t))^2 + (3\sin^2 t \cos t)^2} dt$

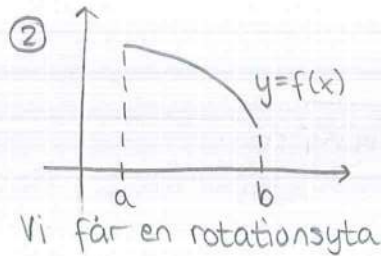
$$= \int_0^{\frac{\pi}{2}} \sqrt{(3\sin t \cos t)^2 (\cos^2 t + \sin^2 t)} dt = \int_0^{\frac{\pi}{2}} 3\sin t \cos t dt = \left[t = \sin t \right]$$

$$= \int_0^{\frac{\pi}{2}} 3t dt = \left[\frac{3t^2}{2} \right]_0^{\frac{\pi}{2}} = \left[\frac{3 \sin^2 t}{2} \right]_0^{\frac{\pi}{2}} = \frac{3}{2}$$

Rotationsyta



Cylindern har arean $2\pi r \cdot l$



Vi får en rotationsyta

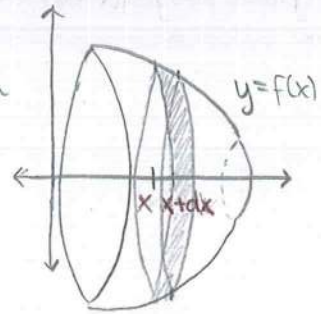
$$ds = \sqrt{1 + (f'(x))^2} dx$$

har arean $2\pi f(x) ds =$

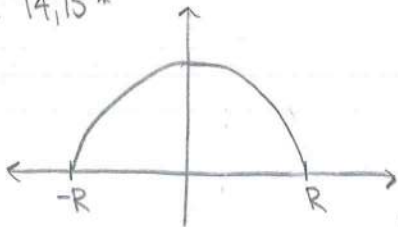
$$= 2\pi f(x) \sqrt{1 + (f'(x))^2} dx$$

$$2\pi \int_a^b f(x) \sqrt{1 + (f'(x))^2} dx$$

Funktionsytan $y=f(x)$ $a \leq x \leq b$ roteras runt x-axeln



Ex. 14,15*

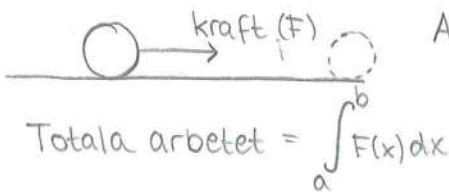


$$x^2 + y^2 = R^2 \Rightarrow y = \sqrt{R^2 - x^2}$$

Sfären betraktas som en rotationsyta ur $y = \sqrt{R^2 - x^2}$ där $-R \leq x \leq R$

Arean av sfären är $2\pi \int_{-R}^R \sqrt{R^2 - x^2} \sqrt{1 + (\sqrt{R^2 - x^2})' ^2} dx = 2\pi \int_{-R}^R \sqrt{R^2 - x^2} \sqrt{1 + \left(\frac{-2x}{2\sqrt{R^2 - x^2}}\right)^2} dx$

$$2\pi \int_{-R}^R \sqrt{R^2 - x^2} \cdot \left(1 + \frac{x^2}{R^2 - x^2}\right) dx = 2\pi \int_{-R}^R \sqrt{R^2 - x^2 + x^2} dx = 2\pi \int_{-R}^R R dx = 4\pi R^2$$



Arbete = kraft · avstånd

